

**Connaissances :**

1. Qu'appelle-t-on une **aire urbaine** ? Où sont situées les plus dynamiques du territoire français ? Quelle est la particularité de l'aire urbaine de Paris (deux réponses attendues) ?
2. Réaliser un **schéma légendé** d'une aire urbaine afin d'en montrer l'organisation.
3. Qu'est-ce que la **périurbanisation** ? Donne deux explications à ce phénomène. Trouve deux conséquences négatives à la périurbanisation.

**Connaissances :**

1. Qu'appelle-t-on une **aire urbaine** ? Où sont situées les plus dynamiques du territoire français ? Quelle est la particularité de l'aire urbaine de Paris (deux réponses attendues) ?
2. Réaliser un **schéma légendé** d'une aire urbaine afin d'en montrer l'organisation.
3. Qu'est-ce que la **périurbanisation** ? Donne deux explications à ce phénomène. Trouve deux conséquences négatives à la périurbanisation.

**Connaissances :**

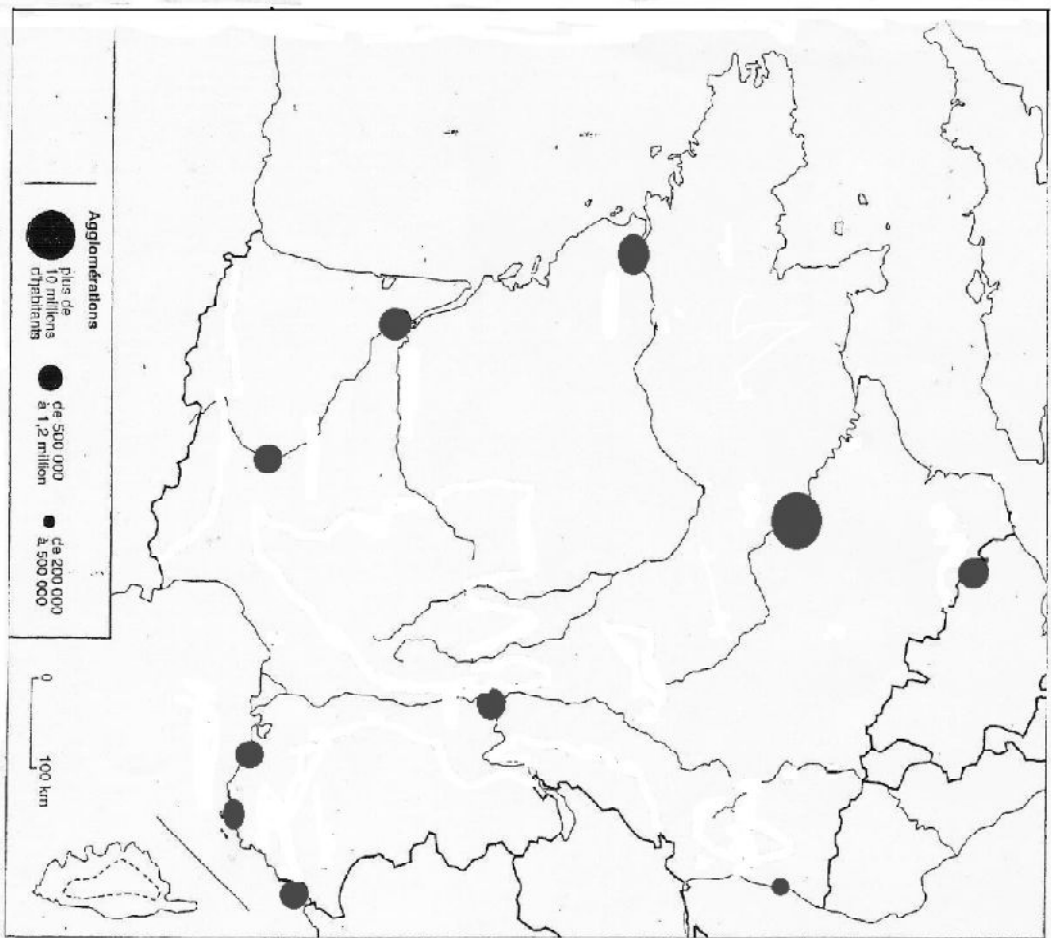
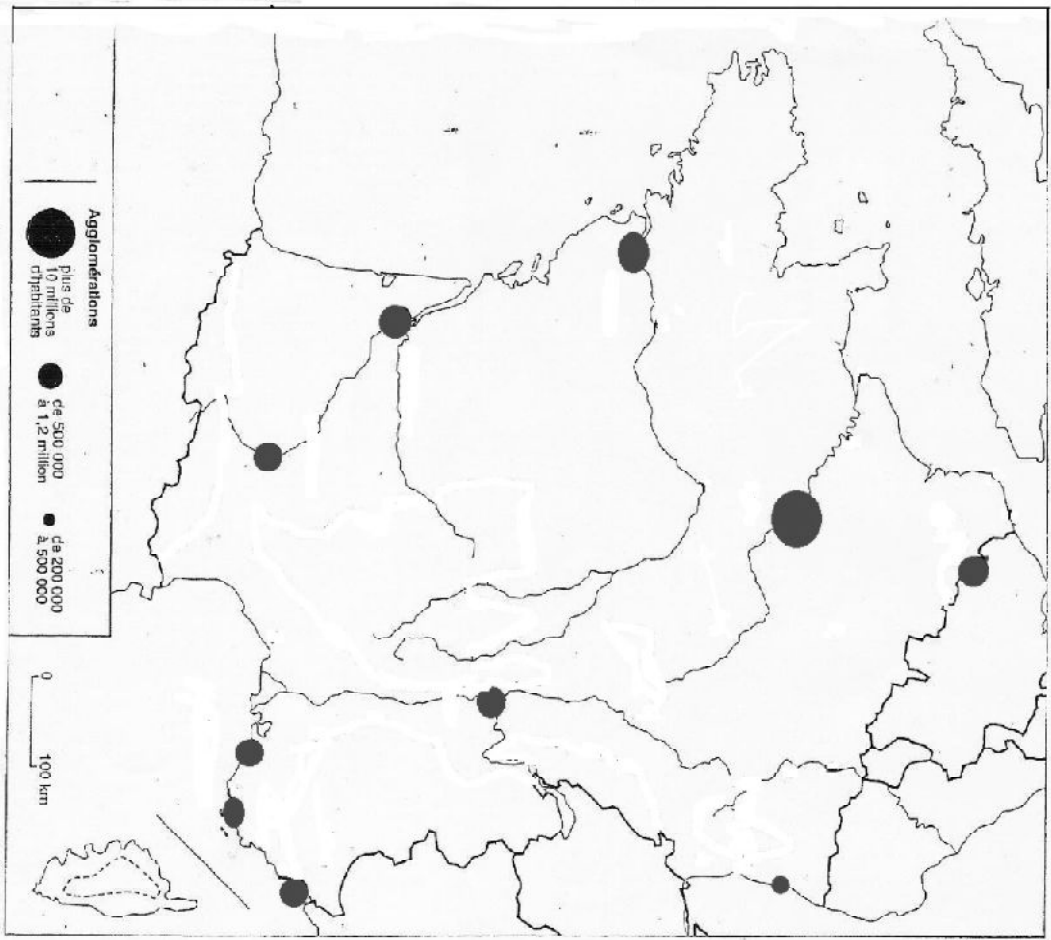
1. Qu'appelle-t-on une **aire urbaine** ? Où sont situées les plus dynamiques du territoire français ? Quelle est la particularité de l'aire urbaine de Paris (deux réponses attendues) ?
2. Réaliser un **schéma légendé** d'une aire urbaine afin d'en montrer l'organisation.
3. Qu'est-ce que la **périurbanisation** ? Donne deux explications à ce phénomène. Trouve deux conséquences négatives à la périurbanisation.

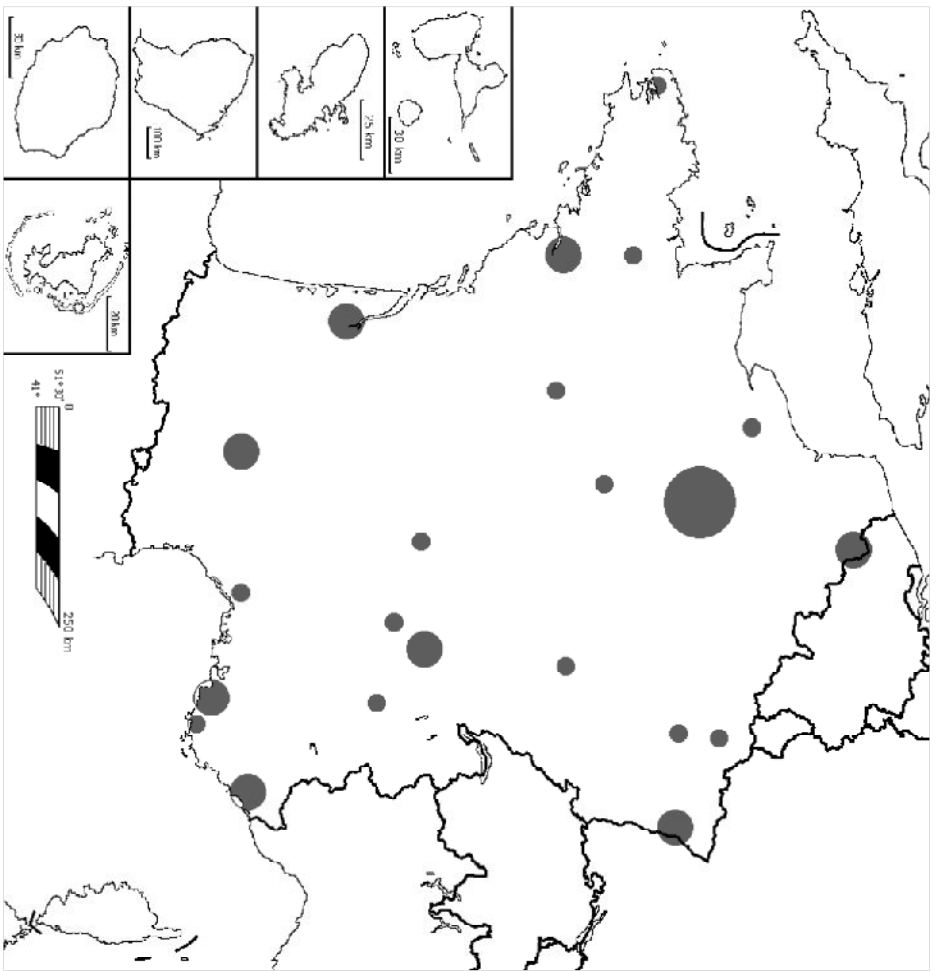
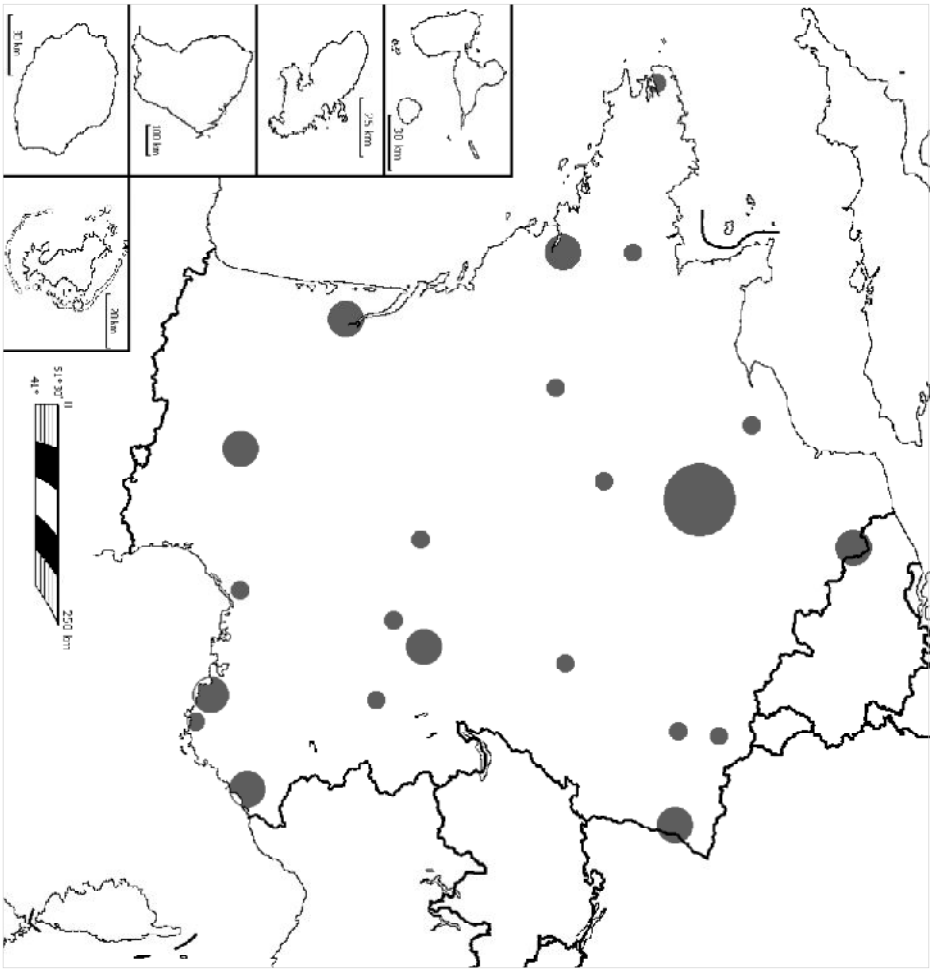
**Connaissances :**

1. Qu'appelle-t-on une **aire urbaine** ? Où sont situées les plus dynamiques du territoire français ? Quelle est la particularité de l'aire urbaine de Paris (deux réponses attendues) ?
2. Réaliser un **schéma légendé** d'une aire urbaine afin d'en montrer l'organisation.
3. Qu'est-ce que la **périurbanisation** ? Donne deux explications à ce phénomène. Trouve deux conséquences négatives à la périurbanisation.

**Connaissances :**

1. Qu'appelle-t-on une **aire urbaine** ? Où sont situées les plus dynamiques du territoire français ? Quelle est la particularité de l'aire urbaine de Paris (deux réponses attendues) ?
2. Réaliser un **schéma légendé** d'une aire urbaine afin d'en montrer l'organisation.
3. Qu'est-ce que la **périurbanisation** ? Donne deux explications à ce phénomène. Trouve deux conséquences négatives à la périurbanisation.





## Analyser et comprendre des documents : 10 points

1. Dans quelle partie de l'aire urbaine de Toulouse, ces photos ont été prises ? Justifie ta réponse en relevant des éléments des deux paysages.
2. Pourquoi les habitants de la photo B peuvent penser vivre à la campagne ? Est-ce vraiment le cas ? Pourquoi ?
3. Pourquoi l'aire urbaine toulousaine gagne-t-elle des habitants ? Pourquoi continue-t-elle de s'étendre plus rapidement que les villes de sa région ?
4. En t'appuyant sur le texte et le croquis, explique pourquoi Toulouse peut être considérée comme une métropole.



Vue aérienne de la ville de Toulouse et de la Garonne

Vue aérienne de Carbonne commune près de Toulouse

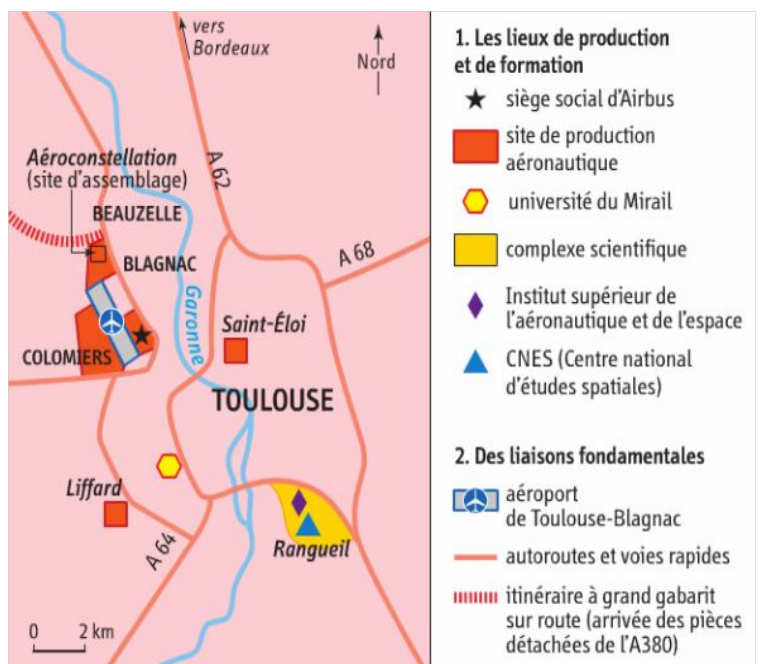
### Une aire urbaine très attractive

L'aire urbaine toulousaine constitue la 4<sup>e</sup> aire urbaine de France. Elle compte 1,25 million d'habitants auxquels vont s'ajouter 470 000 nouveaux arrivants d'ici 2042, selon les prévisionnistes en charge de la prospective démographique locale. Elle affiche un taux de croissance annuel exceptionnel de 1%. Elle connaît un rythme de progression démographique particulièrement dynamique, soutenu par le développement des grands pôles aéronautiques (Airbus industrie, usine d'assemblage) et de santé (Oncopole, campus de cancérologie). L'aire urbaine toulousaine est particulièrement attractive et naturellement le dynamisme démographique de sa couronne périurbaine s'en est trouvé renforcé.

D'après O.Bories, Projets de paysages. Revue scientifique sur la conception et l'aménagement de l'espace. 2016

## Connaissances : 10 points

1. Qu'appelle-t-on une **aire urbaine** ? Où sont situées les plus dynamiques du territoire français ?
2. Réaliser un **schéma légendé** d'une aire urbaine afin d'en montrer l'organisation.
3. Qu'est-ce que la **périurbanisation** ? Donne deux explications à ce phénomène. Trouve deux conséquences négatives à la périurbanisation.
4. Complète la carte des villes fournie.



### 1 Localisation des hautes technologies à Toulouse